

Nombre y apellidos: _____

Curso: _____ Fecha de comienzo: _____

COLEGIO TABLADILLA

PRIMERO DE EDUCACIÓN PRIMARIA




DEBERES FERIA DE ABRIL 2010

1 Ricardo Pineda tiene 36 canicas y Paco Martínez 48 canicas. ¿Cuántas canicas tienen entre los dos?

Operación: sumar restar


Respuesta



2 Raimundo Coral marca 24 goles en toda la liga y Fernando Ostos marca también 24 goles. ¿Cuántos goles marcan entre los dos?

Operación: sumar restar

Respuesta



3 En casa de Antonio Mulet tienen un naranjo con 56 naranjas y en casa de Felipe Loring otro naranjo con 38 naranjas. ¿Cuántas naranjas tienen entre los dos?

Operación: sumar restar


Respuesta



4 En la clase de 1° M somos 29 niños, en la de 1° L son 28 niños y en 1° K son 27 niños. ¿Cuántos niños hay entre las tres clases?


Operación: sumar restar

Respuesta



Colorea y piensa el nombre para este caballo.

El nombre del caballo que he pensado es:



OJOS DE HIELO

Dicen y es verdad que hace mucho, mucho tiempo, antes de que existiesen las cosas, convivían en el mundo los Vicios y las Virtudes.

Un día en que no sabían qué hacer propusieron unos cuantos jugar al escondite.

-¡No! - gritaron Negociación y Aburrimiento.

Como empezaron a discutir tuvieron que llamar a Consenso, que puso a Paz en su sitio y Locura salió corriendo.

-Cuento yo, cuento yo.

Nadie se pudo negar.

-Uno, dos, tres, cuatro,... Poco a poco fueron escondiéndose; Ternura se colgó de un cuerno de la Luna, Orgullo y Soberbia se subieron a la copa del árbol más alto, Belleza se ocultó en la línea que separa el mar del ocaso del Sol.

-Cincuenta y ocho, cincuenta y nueve, sesenta...

Locura seguía contando y Vicios y Virtudes continuaban escondiéndose; Carácter en una roca, Cariño en las gotas del rocío matutino... Todos. Todos no. Amor no encontraba un lugar donde no ser descubierto por más que buscara. Y es que dicen y es verdad que cuando Amor se tiene es imposible de ocultar.

-Noventa y ocho, noventa y nueve y cien. Voy - gritó Locura. Amor, al oírlo, de un salto se metió en un rosal y se acurrucó para no ser visto.

Y, mientras, Locura iba descubriendo el escondite de todos: el primero a Pereza, que como era de esperar no se había movido de su lado, a Ternura en el cuerno de la Luna, a Soberbia y a Orgullo en la copa más alta, a Belleza en la línea que separa el mar del ocaso del Sol; en el rocío a Cariño, a Carácter en la piedra...

A todos, a todos ¡no! A Amor no lo encontraba y sólo quedaba él.

Y es que dicen y es verdad que cuando Amor no se tiene es muy difícil de encontrar.

Entonces salieron a escena Envidia y Traición que le chivaron a Locura el escondite de Amor. Ella, ni corta ni perezosa, cogió un palo que acababa en dos ramas, como una horquilla y empezó a pinchar el seto de rosas para que saliese Amor; a pinchar, a pinchar a pinchar..., cada vez con más fuerza, cada vez con más rabia. Cuando por fin salió Amor de su escondite, dos ríos de sangre manaban de sus ojos y Locura gritó:

- ¡Dios mío, qué he hecho!, ¡perdón! - gemía - ¿qué vamos a hacer si te he dejado ciego?

Amor le respondió:

- No... no veo nada.

- ¿Qué puedo hacer por ti? - preguntaba la otra compungida.

- Ya que me has dejado ciego, podrías servirme de Lazarillo..., ser tú mis ojos.

Desde entonces dicen y es verdad que el amor es ciego y que siempre, siempre le acompaña la locura.

Fernando Sánchez García

5 Busca y coloreo los números del 81 al 100.

81	56	86	99	53	12	85	67	94	87
95	75	93	63	83	17	90	23	100	29
74	72	82	25	97	25	91	27	89	96
84	47	98	64	46	53	92	19	28	88

6 Completo:

27	$20 + 7$	2	7
39	$30 + 9$	3	9
46	$40 + 6$	decenas	unidades
75	$70 + 5$	7	decenas
87	$80 + 7$		
99	$90 + 9$		
12	$10 + 2$		

7 Escribe el número anterior y posterior.

<input type="text"/>	10	<input type="text"/>	<input type="text"/>	50	<input type="text"/>	<input type="text"/>	99	<input type="text"/>
<input type="text"/>	29	<input type="text"/>	<input type="text"/>	70	<input type="text"/>	<input type="text"/>	61	<input type="text"/>

Resuelve las adivinanzas.

Blanca soy como la nieve y me sacan de una caña, aunque soy del otro mundo, ahora ya nazco en España.

Después de haberme molido, agua hirviendo echan en mí. La gente me bebe mucho cuando no quiere dormir.



Blanca fue mi niñez, morada mi mocedad, negra y prieta mi vejez adivina qué será.

Soy blanca como la nieve y dulce como la miel; yo alegro los pasteles y la leche con café.

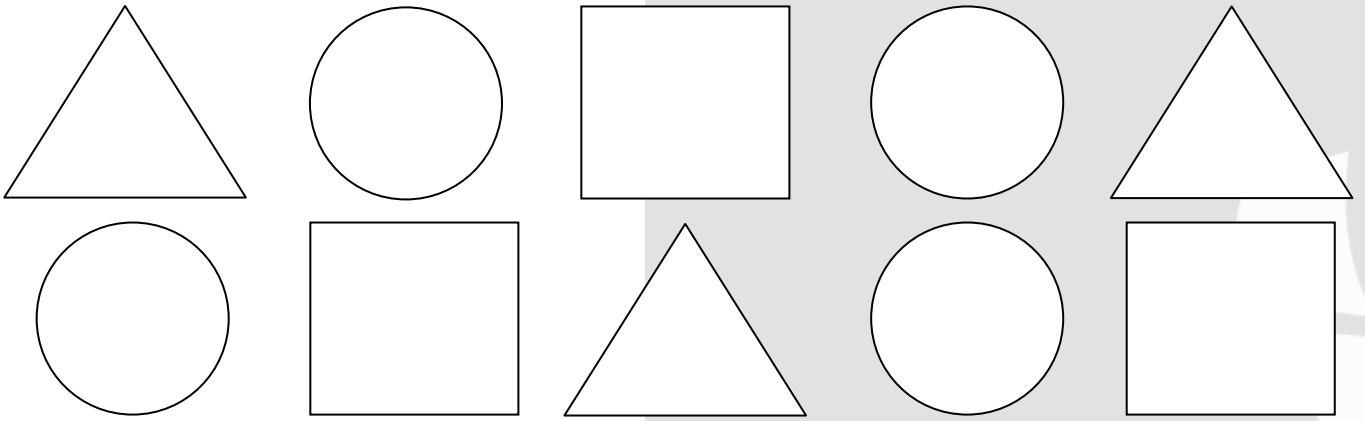
Con el dinero lo compro, con los dedos lo deslío, por la cara me lo como.

Somos blancos, larquiruchos, nos frien en las verbenas, y dorados, calentitos, nos comen nenes y nenas.

Colorea y copia este caballo en el espacio correspondiente.



12 Colorea los triángulos de verde, los cuadrados de rojo y los círculos de amarillo:



13 Uno cada número con su nombre:

16

Veintinueve

24

Dieciséis

29

Veintiuno

21

Veinticuatro

14 Completa.

$$10 + 1 - 4$$


$$10 + 5 - 2$$

$$10 + 4 - 6$$


$$20 + 2 - 3$$

$$20 + 4 - 5$$

$$20 + 9 - 7$$



Haz un dibujo de las cosas que puedes encontrar en la feria de Sevilla.



15

En un camión hay 32 cajas de zapatos; al girar en una curva se caen 13 cajas.
¿Cuántas cajas quedan en el camión?

Operación: sumar restar

Respuesta

16

Agustín tenía 97 céntimos y me compré un cuaderno de 75 céntimos. ¿Cuánto dinero le queda?

Operación: sumar restar

Respuesta

17

Blanca Mulet tiene 12 años y Antonio Mulet tiene 6 años. ¿Cuántos años más tienes Blanca que Antonio?

Operación: sumar restar

Respuesta

18

Rafael Gala tenía 64 pegatinas. Ha repartido 22 en su clase. ¿Cuántas pegatinas tiene ahora Rafael Gala?

Operación: sumar restar

Respuesta

Colorea a este jugador con los colores de tu equipo preferido.



19 Ordenar de mayor a menor los números:

67 17 29 75 37 57

_____ > _____ > _____ > _____ > _____ > _____

20 Sumar:

$$\begin{array}{r} 16 \\ + 21 \\ \hline \end{array} \quad \begin{array}{r} 15 \\ + 32 \\ \hline \end{array} \quad \begin{array}{r} 51 \\ + 24 \\ \hline \end{array} \quad \begin{array}{r} 84 \\ + 6 \\ \hline \end{array} \quad \begin{array}{r} 23 \\ + 15 \\ \hline \end{array}$$

$$\begin{array}{r} 27 \\ + 13 \\ \hline \end{array} \quad \begin{array}{r} 15 \\ + 10 \\ \hline \end{array} \quad \begin{array}{r} 16 \\ + 12 \\ \hline \end{array} \quad \begin{array}{r} 24 \\ + 33 \\ \hline \end{array} \quad \begin{array}{r} 41 \\ + 25 \\ \hline \end{array}$$

21 Colorear las sumas que den como resultado 30:

$$20 + 7$$

$$15 + 2$$

$$7 + 23$$

$$20 + 10$$

$$10 + 12$$

$$24 + 6$$

$$5 + 25$$

$$18 + 12$$

$$8 + 22$$

$$12 + 6$$

$$15 + 15$$

$$16 + 14$$

22 Escribe los números que faltan:

$$29 + 1 = \square$$

$$14 + \square = 30$$

$$\square + 8 = 30$$

$$15 + 5 = \square$$

$$5 + 5 = \square$$

$$7 + \square = 10$$

Escribe el anterior y el siguiente.

$$\underline{\quad} < \underline{12} < \underline{\quad}$$

$$\underline{\quad} < \underline{26} < \underline{\quad}$$

$$\underline{\quad} < \underline{3} < \underline{\quad}$$

$$\underline{\quad} < \underline{50} < \underline{\quad}$$

$$\underline{\quad} < \underline{76} < \underline{\quad}$$

$$\underline{\quad} < \underline{18} < \underline{\quad}$$

$$\underline{\quad} < \underline{45} < \underline{\quad}$$

$$\underline{\quad} < \underline{84} < \underline{\quad}$$

$$\underline{\quad} < \underline{39} < \underline{\quad}$$

$$\underline{\quad} < \underline{87} < \underline{\quad}$$

$$\underline{\quad} < \underline{23} < \underline{\quad}$$

$$\underline{\quad} < \underline{20} < \underline{\quad}$$

$$30 + 40 + 10 = \underline{\quad}$$

$$30 + 10 + 10 = \underline{\quad}$$

$$30 + 30 + 20 = \underline{\quad}$$

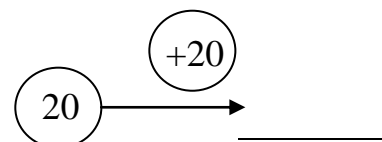
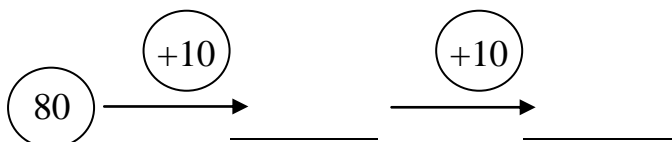
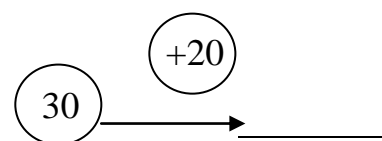

$$50 + 10 + 20 = \underline{\quad}$$

$$30 + 20 + 10 = \underline{\quad}$$

$$0 + 10 + 30 = \underline{\quad}$$

$$30 + 10 + 20 = \underline{\quad}$$

$$0 + 20 + 0 = \underline{\quad}$$



Pregunta a tus padres como te debes comportar en las atracciones de la feria. Y colorea este dibujo

